


Haz las agujas de las horas de color rojo y las de los minutos de color azul.

Nombre: _____

Fecha: _____




9 : 00

Son las _____




11 : 00

Son las _____




1 : 00

Es la _____




3 : 00

Son las _____



10 : 30

Son las _____




4 : 00

Son las _____



4 : 00

Son las _____



7 : 00

Son las _____



9 : 30

Son las _____