


Haz las agujas de las horas de color rojo y las de los minutos de color azul.

Nombre: _____

Fecha: _____




9 : 30

Son las _____




6 : 30

Son las _____



2 : 00

Son las _____




7 : 30

Son las _____



10 : 00

Son las _____




3 : 00

Son las _____




8 : 30

Son las _____



2 : 00

Son las _____



3 : 00

Son las _____