


Haz las agujas de las horas de color rojo y las de los minutos de color azul.

Nombre: _____

Fecha: _____




4 : 00

Son las _____




2 : 00

Son las _____




3 : 00

Son las _____




6 : 30

Son las _____



9 : 00

Son las _____




5 : 00

Son las _____



1 : 00

Es la _____



6 : 00

Son las _____



6 : 30

Son las _____